

DÜNYA ÇOCUK BAYRAMI

Kiminin saçı siyah,
Kiminin saçı sarı...
Ankara'da buluştu,
Dünyanın çocukları.

Her Yirmi Üç Nisan'da
Tekrarlanır bu olay.
Buluşma nedenini,
Açıklamak çok kolay.



Dünyanın çocukları
Yurdumuza koşuyor,
Her Yirmi Üç Nisan'da
Cıvıldaşıp coşuyor.

Türkiye konuklarla,
Kalpler sevgiyle dolsun.
Dünya Çocuk Bayramı
Herkesine mutlu olsun!

Altan ÖZYÜREK



Bu kocaman dünyada
Ülke sayısı çoktur.
Oysaki hiç birinin
Çocuk Bayramı yoktur.



❖ Aşağıdaki soruları şiire göre cevaplayınız.

1-Tüm dünyadaki çocuklar nerede buluşuyor-
muş?

.....

2- Dünyadaki tek çocuk bayramı hangisiymiş?

.....

3- Çocuk bayramı hangi tarihte kutlanıyormuş?

.....

4- Şiir kaç kıta ve kaç dizeden oluşmaktadır?

.....

❖ Aşağıdaki eş sesli kelimelerin farklı anlamları ile cümleler kurunuz.

diz	→
	→
kap	→
	→
kuru	→
	→

Gerçek-mecaz-terim anlam ve noktalama (tekrar)

❖ Aşağıdaki soruları cevaplayınız.

1- " Tatlı " sözcüğünü mecaz anlamıyla bir tümcede kullanınız.

.....

2- İçerisinde, fen bilimleri dersi ile ilgili terim olan bir tümce kurunuz.

.....

3- " Bu dersteki sıfat konusunu anlamadım. " tümcesindeki terim anlamlı kelime hangisidir?

.....

4- " Onun gözü hep yükseklerdeydi. " tümcesindeki altı çizili sözcük sizce mecaz anlamlı mı yoksa gerçek anlamlı mı?

.....

5- " Bu işin içinde kesin onun parmağı vardır. Burnunu bu işe sokmuştur. " tümcelerinde kaç tane mecaz anlamlı sözcük kullanılmıştır?

.....

❖ Noktalama işaretleri doğruysa "D", yanlışsa "Y" koyunuz.

() " Sen ne zaman geldin? " dedi.

() Cemil Sönmez İlkokulu'nda okumuş.

() Berat, Enes'ler ile top oynuyor.

() Antalyanın havası sıcaktır.

() Hormonlu gıdalar tüketmemelisin?

() Ahmet de Çorum'lu biliyor musun?

() Atatürk , "Geldikleri gibi giderler." dedi.

() Ayyy! Yazık küçük kediye.

() Keloğlan'ın filmini izledim.

() Ekmek süt ve patates al gelirken.

() Sen de gel benimle?

() Fatma'nın kalemi mi o?

() Gece mi yağdı yağmur.

❖ Cümlelerdeki altı çizili sözcüklerin numaralarını, anlamlarına göre ilgili sepetlere yazınız.

- 1- Kütle konusunu işledik.
- 2- Köyden acı haber geldi.
- 3- Açılar dörde ayrılıyormuş.
- 4- Çok kırıcı oldun bence.
- 5- Hadi okula gidelim.
- 6- Bugün erik alalım mı?

- 7- Zamir ismin yerine geçer.
- 8- Sen taş kalpli bir adamsın.
- 9- Ben elmamı yiyorum.
- 10- Annem yufka almanı istedi.
- 11- Bu tatlı sözleri ile beni kandırdı.
- 12- Hakem penaltıyı vermedi.



Gerçek anlam



Mecaz anlam



Terim anlam


Uzunluk ölçme

❖ Aşağıdaki oyuncakların kaç milimetre uzunluğunda olduklarını altlarındaki boşluklara yazınız.




mm 1 2 3 4 5 6 7 8

..... mm




mm 1 2 3 4 5 6 7 8

..... mm



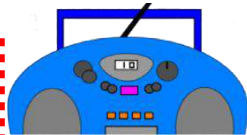
mm 1 2 3 4 5 6 7 8

..... mm



mm 1 2 3 4 5 6 7 8

..... mm



mm 1 2 3 4 5 6 7 8

..... mm



mm 1 2 3 4 5 6 7 8

..... mm

Uzunluk ölçüleri (kilometre, milimetre)

❖ Uzunluk ölçüleri arasındaki çevirmeleri yapınız. (kilometre, metre)

$$3 \text{ km } 210 \text{ m} = \dots\dots\dots \text{ m}$$

$$6 \text{ km } 410 \text{ m} = \dots\dots\dots \text{ m}$$

$$5 \text{ km } 120 \text{ m} = \dots\dots\dots \text{ m}$$



$$3850 \text{ m} = \dots\dots \text{ km } \dots\dots \text{ m}$$

$$1590 \text{ m} = \dots\dots \text{ km } \dots\dots \text{ m}$$


$$9860 \text{ m} = \dots\dots \text{ km } \dots\dots \text{ m}$$

❖ Uzunluk ölçüleri arasındaki çevirmeleri yapınız. (metre, santimetre)

$$4 \text{ m } 52 \text{ cm} = \dots\dots\dots \text{ cm}$$

$$9 \text{ m } 21 \text{ cm} = \dots\dots\dots \text{ cm}$$

$$8 \text{ m } 56 \text{ cm} = \dots\dots\dots \text{ cm}$$



$$598 \text{ cm} = \dots\dots \text{ m } \dots\dots \text{ cm}$$

$$778 \text{ cm} = \dots\dots \text{ m } \dots\dots \text{ cm}$$


$$254 \text{ cm} = \dots\dots \text{ m } \dots\dots \text{ cm}$$

❖ Uzunluk ölçüleri arasındaki çevirmeleri yapınız. (santimetre, milimetre)

$$6 \text{ cm } 21 \text{ mm} = \dots\dots\dots \text{ mm}$$

$$7 \text{ cm } 41 \text{ mm} = \dots\dots\dots \text{ mm}$$

$$2 \text{ cm } 12 \text{ mm} = \dots\dots\dots \text{ mm}$$



$$222 \text{ mm} = \dots\dots \text{ cm } \dots\dots \text{ mm}$$

$$456 \text{ mm} = \dots\dots \text{ cm } \dots\dots \text{ mm}$$


$$120 \text{ mm} = \dots\dots \text{ cm } \dots\dots \text{ mm}$$

❖ Zaman ölçüleri arasındaki çevirmeleri yapınız. (metre, milimetre)

$$9 \text{ m } 210 \text{ mm} = \dots\dots\dots \text{ mm}$$

$$7 \text{ m } 410 \text{ mm} = \dots\dots\dots \text{ mm}$$

$$4 \text{ m } 120 \text{ mm} = \dots\dots\dots \text{ mm}$$



$$2002 \text{ mm} = \dots\dots \text{ m } \dots\dots \text{ mm}$$

$$7778 \text{ mm} = \dots\dots \text{ m } \dots\dots \text{ mm}$$

$$1234 \text{ mm} = \dots\dots \text{ m } \dots\dots \text{ mm}$$

Ses kirliliği

❖ Aşağıdaki cümleleri okuyunuz. Doğru olanların başına "D", yanlış olanların başına ise "Y" koyunuz.

() Ses kirliliği canlılarda aşırı strese neden olur.

() Kalabalık şehirlerde ses kirliliği daha azdır.

() Trafikte gereksiz yere kornaya basmamalıyız.

() İş makineleri ses kirliliğine neden olurlar.

() Geç saatte yüksek sesle müzik dinleyebiliriz.

() Düğün salonu, stüdyo gibi yerlere ses yalıtımı yapılmalıdır.



() Ses kirliliği çok fazla önemsenecek bir durum değildir.

() Sanayi, havaalanı gibi yerleri şehir dışına yapmalıyız.

❖ Aşağıdaki soruları cevaplayınız. Soruların cevaplarını alt taraflarındaki boşluklara yazınız.

Ses kirliliği nedir? Nasıl oluşur?

Cevap:.....
.....
.....



Ses kirliliğine neden olan olaylardan ikisini yazınız.

Cevap:.....
.....
.....

Ses kirliliğinin canlıların yaşamında ne gibi olumsuz etkileri vardır?

Cevap:.....
.....
.....



Ses kirliliğini önlemek için yapabileceğimizden ikisini yazınız.

Cevap:.....
.....
.....

Sorumluluklarımız

❖ Aşağıda verilen kelimeler ile boşlukları doldurunuz.

sorunlar

zamanında

oyuncaklarımızı

derslerimize

- ✚ Haklarımız olduğu gibi da vardır..
- ✚ En önemli sorumluluğumuz çalışmaktır.
- ✚ Sorumluluklarımızı yerine getirmezsek çeşitli ile karşılaşırız.
- ✚ Oyun oynadıktan sonra toplamalıyız.
- ✚ Sofra kurulurken yardım etmeliyiz.
- ✚ Kirlenen kıyafetlerimizi sepetine atmalıyız.
- ✚ Annemize ve babamıza yardım etmek için sulayabiliriz.
- ✚ Ödevlerimizi yapmalıyız.

kirlı

annemize

çiçekleri

sorumluluklarımız

❖ Aşağıdaki soruların cevaplarını , altlarındaki boşluklara yazınız.

Sorumluluk nedir?

.....

.....

.....

Sorumluluklarımızı yerine getirmezsek nasıl sonuçlar ile karşılaşırız ?

.....

.....

.....

Evdeki sorumluluklarımızdan üç tanesini yazınız ?

1-

2-

3-


Okuldaki sorumluluklarımızdan üç tanesini yazınız ?

1-

2-

3-

MİNİ TEST



1- Yukarıdaki oyuncak kaç milimetredir?

- A) 80 mm B) 7 mm
C) 75 mm D) 85 mm

$$2 \text{ cm} = 20 \text{ mm}$$

$$60 \text{ cm} = 6 \text{ m}$$

$$21 \text{ cm} = 210 \text{ mm}$$

$$3000 \text{ m} = 3 \text{ km}$$

$$3 \text{ km} = 300 \text{ m}$$

$$500 \text{ cm} = 5 \text{ m}$$




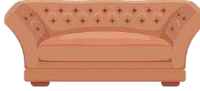
$$7 \text{ m} = 700 \text{ cm}$$

$$90 \text{ mm} = 9 \text{ cm}$$

2- Yukarıdaki uzunluk ölçüsü çevirilerinden kaç tanesi doğrudur?

- A) Dört B) Beş
C) Altı D) Yedi

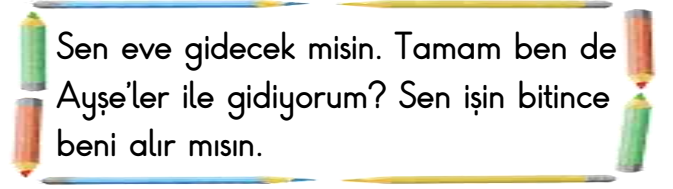
3- Hangisinin uzunluğu metre ile ölçülemez?

- A)  B) 
C)  D) 

1. Ali'nin eli açıktır her zaman.
2. Artık kafa ütülüyorsun ama!
3. Peynirli böreğe bayılırım.

4- Yukarıdaki cümlelerin hangilerinde mecaz anlamı bir kelime kullanılmıştır?

- A) 1 ve 3 B) 2 ve 3
C) Sadece 3 D) 1 - 2 ve 3



5- Yukarıdaki cümlelerde, kaç tane noktalama işareti hatası yapılmıştır?

- A) Dört B) Beş
C) Altı D) Yedi

6- Aşağıdakilerden hangisi terim anlamı bir kelime değildir?

- A) Kesir B) Röntgen
C) Reçete D) Kalem

Ses kirliliği canlıların yaşamını etkiler.

7- Yukarıdaki cümledeki boş bırakılan yere aşağıdakilerden hangisini yazabiliriz?

- A) sağlık sorunlarına B) olumsuz
C) olumlu D) güzelleştirir



8- Yukarıda verilenlerden kaç tanesi ses kirliliğine yol açmaz?

- A) İki B) Üç
C) Dört D) Beş

9- Aşağıdakilerden hangisi doğrudur?

- A) Ses kirliliği çok fazla önemsenecek bir durum değildir.
B) Havaalanlarını şehir içine yapmalıyız.
C) Trafikte kornaya fazla basmalıyız ki herkes bizi duysun.
D) Geniş yollar yaparsak trafik azalır ve ses kirliliği de azalmış olur.

Kendimize ve çevremize karşı yerine getirmemiz gereken iş ve hareketlere denir.

10- Yukarıdaki cümlede boş bırakılan yere ne yazmalıyız?

- A) meslek B) görev
C) iş D) sorumluluk

Derslerimize çalışmak.

Bir işte çalışıp para kazanmak.

Kirli çamaşırlarını, kirli sepetine atmak.

Evdeki elektrikli aletleri tamir etmek.

11- Yukarıdakilerden kaç tanesi dördüncü sınıfa giden bir çocuğun sorumluluğudur?

- A) Bir B) İki
C) Üç D) Dört

12- Aşağıdakilerden hangisi evdeki sorumluluklarımızdan birisi değildir?

- A) Sınıfta söz almadan konuşmamak.
B) Oyun oynadıktan sonra oyuncaklarımızı toplamak.
C) Sofra kurarken annemize yardım etmek.
D) Sabah uyandıığımızda yatağımızı toplamak.